

Matemàtiques : exercicis 1, 2, 3, 4 i 8 pàgines 154- 155


Repàs trimestral

Hui fa un dia magnífic i moltes persones han decidit passar-lo al parc aquàtic.

Oferta especial per a grups de més de 6 persones
per entrada en taquilla
12 €


Reserva d'entrada per Internet, sense cues!
10 € per entrada

Preu de l'entrada en taquilla
15 € per entrada




- Observa els preus i calcula.
 - Quant costen 4 entrades si fas la reserva per Internet?
 - Quant costen 3 entrades en taquilla?
 - Quant costen les entrades d'un grup de 15 persones si fas la reserva per Internet?
 - Quant costaran les entrades d'un grup de 20 persones en taquilla?
- Observa els dibuixos i calcula el preu de cada lot d'entrades.

a.



b.


- Calcula.


El doble	La meitat	El triple	Un terç
734	850	532	930
4.712	5.920	6.149	7.836
6.564	12.310	7.352	72.012


SEGON TRIMESTRE


- Fes cada divisió i comprova que no t'has equivocat.


RECORDA
Una divisió està ben feta si es compleix:
 • residu < divisor
 • divisor × quocient + residu = Dividend


- 788 : 4
 - 911 : 7
 - 612 : 6
 - 488 : 5
 - 2.975 : 2
 - 4.068 : 3
 - 4.843 : 8
 - 9.020 : 9
- Escriu la fracció que representa la part pintada i com es llig.

a. 

b. 

c. 


d. 

e. 
- Expressa amb un número decimal i una fracció.
 - Quatre dècimes.
 - Set dècimes.
 - Trenta-dues centèsimes.
 - Huitanta-set centèsimes.
- Calcula en el quadern.
 - 65,89 + 37,25
 - 82,37 - 29,53
 - 59,12 × 6
 - 21,43 × 1,5

Problemes

Excel·lent!

- Resol.
 - Andrea compra una motxilla per 25 € i 4 carpetes iguals per 3,25 € cada una. Per pagar dona un bitllet de 50 €. Quants diners li tornen?
 - Hui, a la pastisseria de David han fet 12 pastissos de poma, 6 de maduixa i 9 de fruites. Els han col·locats en parts iguals en 3 prestatgeries. Quants pastissos han posat en cada una?
 - Carla viu a 840 m de l'escola i el seu amic Màrius viu a un terç d'aquesta distància. A quants metres menys de l'escola viu Màrius que Carla?
 - Ignasi ha collit a l'hort 420 kg de pomes. Se n'ha quedat la meitat i la resta de pomes les ha repartides en parts iguals entre 3 amics. Quants quilos de pomes ha donat a cada un?




Ciències Socials : pàgines 82 – 83. Exercicis 1, 2, 3 i 4

LES LOCALITATS, POBLES I CIUTATS

Les persones solem viure agrupades en **localitats**.
Una **localitat** és un nucli de població format per conjunts de cases agrupades en carrers, places, etc.
Si la localitat és xicoteta i té pocs habitants és un **poble**. En canvi, si és gran i té molts habitants és una **ciutat**.
En general, totes les localitats, ja siguin grans o menudes, tenen en comú els **elements** següents:

- **Edificis**, que són els llocs on viuen i treballen les persones. Hi ha edificis, com les biblioteques o els ambulatoris, que són **públics** i n'hi ha d'altres, com els habitatges o les botigues, que són **privats**.
- **Carrers i places** per on circulen els vehicles.
- **Vorerers** per on circulen els vianants.
- **Mobiliari urbà**, com ara bancs, fanals, papereres, etc.
- **Senyals de trànsit** per a ordenar la circulació, tant dels vehicles com dels vianants.
- **Zones per a vianants** amb parcs, passejos, jardins, carrils bici, espais infantils, etc.
- **Serveis públics**, com ara escoles, centres de salut, farmàcies, policia municipal, aigua potable, clavegueram, energia elèctrica, etc.



Alacant.


Els pobles

A més de tenir pocs habitants, els pobles es caracteritzen perquè:

- Els **habitatges** solen ser **baixets**: d'una o dues plantes i habitatges per una sola família.
- Els **carrers** solen ser **curts i estrets**.
- Al voltant hi ha, sobretot, **terres de cultiu i granges**.
- Hi ha **pocs vehicles** i, en conseqüència, també hi ha menys trànsit, menys soroll i menys contaminació atmosfèrica.

Solen haver-hi menys serveis que a les ciutats però també són més **tranquils**.

Antigament, la major part de les persones dels pobles treballaven en l'agricultura, la ramaderia i l'artesania però, a poc a poc, aquestes tasques han donat pas a altres modalitats d'ocupació, com són la indústria o el turisme rural.



Forcall.

LES CIUTATS

A més de l'elevat nombre d'habitants i de l'extensió pròpia d'una ciutat, aquestes es caracteritzen perquè:

- Es divideixen en **barris** que poden ser:
 - El **barri antic**, normalment situat al centre de la ciutat, on els carrers són més estrets i on trobem els monuments més importants.
 - Els **barris moderns** o zones d'eixample al voltant del barri antic, de carrers amples i rectes i edificis molt alts destinats a habitatges o a despatxos i oficines de treball.
 - Els **barris de la perifèria**, ocupats principalment per urbanitzacions, polígons industrials, centres comercials, etc.
- Hi ha **molts vehicles** pels carrers i això suposa més soroll, contaminació atmosfèrica i embussos que dificulten el trànsit.
- Els seus habitants solen treballar en una gran **varietat d'oficis** que, generalment, no estan relacionats ni amb l'agricultura ni amb la ramaderia.

INVESTIGUEM

A. Indica si les característiques següents són d'un poble o d'una ciutat:

- Està format majoritàriament per cases baixes.
- Hi ha molts magatzems i fàbriques al polígon industrial.
- L'atmosfera està molt contaminada.

- Com és la localitat on vius? Busca informació i completa.

Jo visc a la localitat de: _____
 Situada a la comarca de: _____
 El codi postal és: _____ La meua localitat és (un poble/una ciutat): _____
 Té una població de: _____ habitants Els edificis són: _____
 Els carrers són: _____
 Visc al carrer/plaça: _____ Núm.: _____ Pis.: _____ Porta: _____
 El meu carrer està situat al barri de: _____
- La localitat on vius sempre ha sigut així o ha patit canvis? Com ho has sabut?
- Dibuixa o apegas fotos d'un edifici i d'un monument important de la teua localitat i escriu davall què són.
- Escriu el nom de tres carrers del teu barri.
- Escriu el nom de tres ciutats i tres pobles valencians.

